



Guía N°1

Asignatura: Matemáticas
Curso: 4° Básico
Fecha:

Preparación Simce 2026

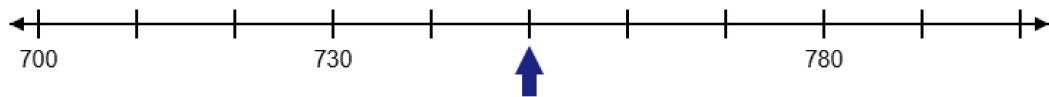
Nombre:

Firma Profesor

Firma Apoderado

1

Observa la flecha en la recta numérica:



¿Qué número se ubica en la posición que indica la flecha?

- A. 720
- B. 740
- C. 750
- D. 760


2

Ana, Matías y Rosa juntaron tapas de bebida para hacer un trabajo de Arte. Ana juntó 125 tapas, Rosa juntó 15 tapas menos que Ana y 10 más que Matías. ¿Cuántas tapas de bebida juntaron entre los tres?

- A. 120
- B. 150
- C. 335
- D. 355

3

Observa la imagen de una caja de huevos.



¿Con qué multiplicación se puede calcular la cantidad total de huevos que hay en la caja?

- A. $2 \cdot 5$
- B. $12 \cdot 2$
- C. $6 \cdot 6$
- D. $6 \cdot 2$

4

Esta fotografía rectangular tiene 18 cm de largo y 12 cm de ancho.



Para decorar la fotografía con un trozo de cordón por todo el contorno, ¿cuántos centímetros de cordón se necesitan en total?

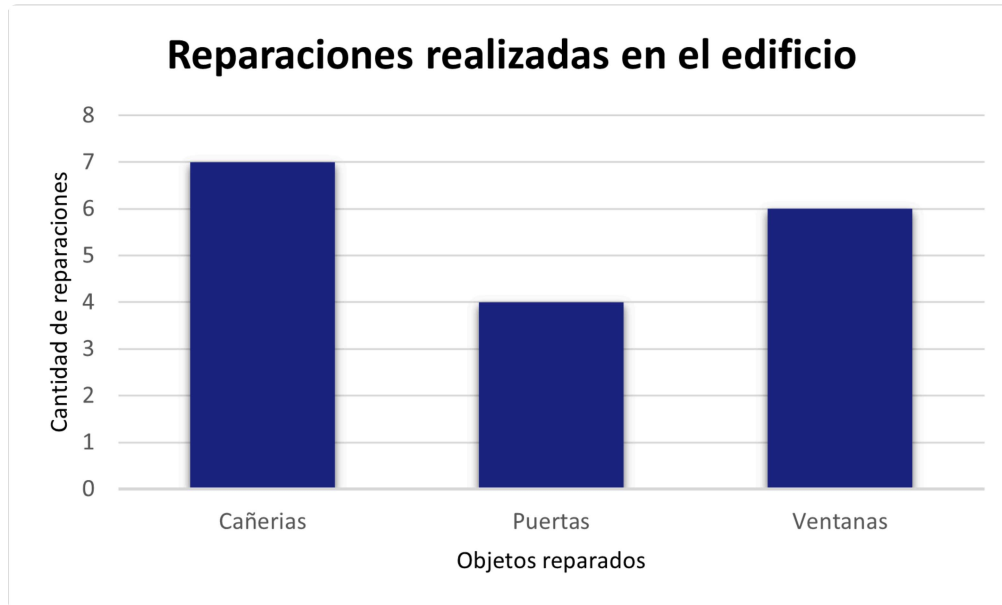
- A. 30
- B. 36
- C. 42
- D. 60

5

Un álbum tiene 3 fotos en cada una de sus páginas y, en total, tiene 39 fotos. ¿Cuántas páginas tiene el álbum?

- A. 39 páginas
- B. 33 páginas
- C. 13 páginas
- D. 12 páginas

Este gráfico muestra la cantidad de reparaciones que se han realizado en un edificio.



¿Cuántas reparaciones se han realizado en total a las ventanas de este edificio?

- A. 4
- B. 3
- C. 6
- D. 7




7

Elena trabajó 50 horas en marzo, 52 horas en abril y 48 horas en mayo. ¿Cuántas horas trabajó en total durante esos tres meses?

- A. 140
- B. 150
- C. 160
- D. 170

8

¿En qué posición se ubica el cubo?

	A	B	C	D
1				
2				
3				
4				

- A. D1
- B. B4
- C. C1
- D. C2